


Consolidation
7-26

Les nombres de 0 à 100

Corrigé



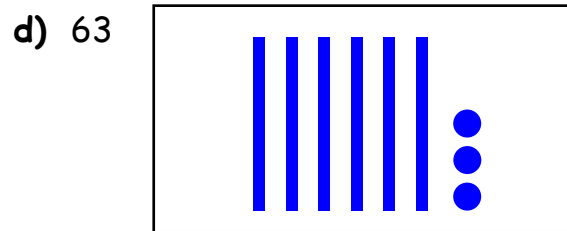

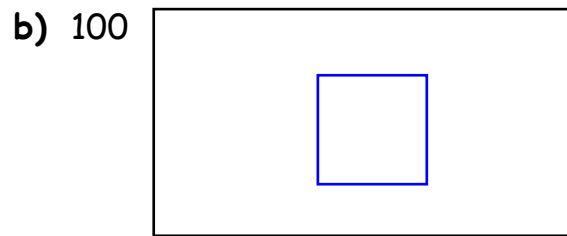

1. Écris le nombre qui vient juste avant et le nombre qui vient juste après.

a)	<input type="text" value="89"/>	(90)	<input type="text" value="91"/>	b)	<input type="text" value="40"/>	(41)	<input type="text" value="42"/>
c)	<input type="text" value="47"/>	(48)	<input type="text" value="49"/>	d)	<input type="text" value="61"/>	(62)	<input type="text" value="63"/>
e)	<input type="text" value="59"/>	(60)	<input type="text" value="61"/>	f)	<input type="text" value="86"/>	(87)	<input type="text" value="88"/>
g)	<input type="text" value="81"/>	(82)	<input type="text" value="83"/>	h)	<input type="text" value="52"/>	(53)	<input type="text" value="54"/>
i)	<input type="text" value="69"/>	(70)	<input type="text" value="71"/>	j)	<input type="text" value="84"/>	(85)	<input type="text" value="86"/>

2. Complète les suites de nombres.

a)	<input type="text" value="54"/>	<input type="text" value="55"/>	56	<input type="text" value="57"/>	<input type="text" value="58"/>	<input type="text" value="59"/>	<input type="text" value="60"/>	61
b)	<input type="text" value="75"/>	<input type="text" value="76"/>	<input type="text" value="77"/>	78	<input type="text" value="79"/>	80	<input type="text" value="81"/>	<input type="text" value="82"/>
c)	<input type="text" value="89"/>	<input type="text" value="90"/>	<input type="text" value="91"/>	<input type="text" value="92"/>	93	<input type="text" value="94"/>	95	<input type="text" value="96"/>

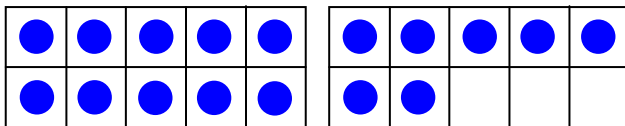
3. **Représente** les nombres. Utilise des □ pour les centaines, des | pour les dizaines et des ● pour les unités.



Te souviens-tu ?

4. **Résous** les problèmes.


a) Juliette a 12 dinosaures verts et 5 dinosaures bleus.
Combien de dinosaures a-t-elle en tout ?



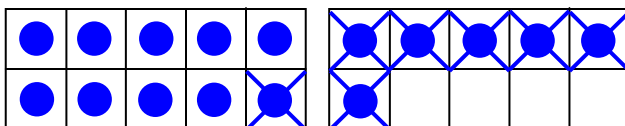
Juliette a

17

 dinosaures en tout.



b) Marco a fabriqué 16 cartes de dinosaures. Il en donne 7 à ses amis.
Combien de cartes lui reste-t-il ?



Il reste

9

 cartes de dinosaures à Marco.

