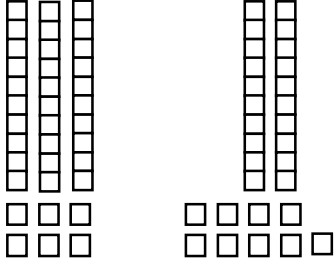


**Consolidation**  
**Thème 6**

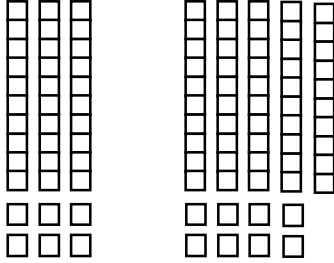
# L'addition des nombres à 2 chiffres (avec échange)

1. Résous les additions.

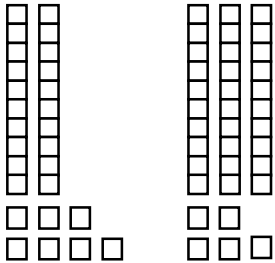
a)  $36 + 29 = \square$



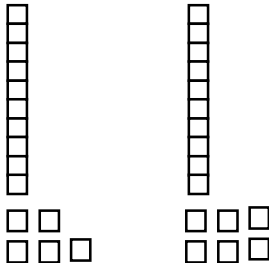
b)  $36 + 58 = \square$



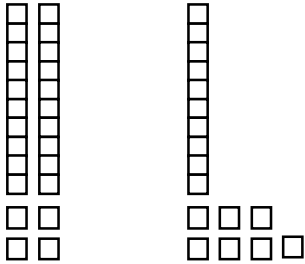
c)  $27 + 35 = \square$



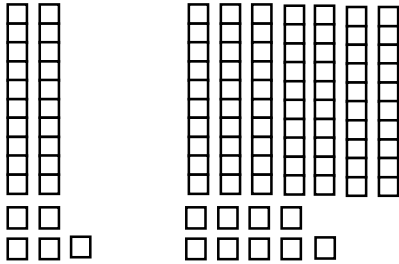
d)  $15 + 16 = \square$



e)  $24 + 17 = \square$



f)  $25 + 79 = \square$




2. **Résous** le problème.

Charlotte fait 64 sauts à ski.

Maëlie fait 29 sauts à ski de plus que Charlotte.

Combien de sauts Maëlie fait-elle ?



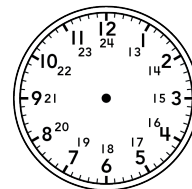
Maëlie fait  sauts à ski.




**Te souviens-tu ?**

3. **Réponds** aux questions. **Ajoute** les heures sur les horloges.

a) Shuvon prend l'autobus à 8 h pour se rendre à l'école. Il arrive à 8 h 45 à l'école. Combien de temps dure le trajet en autobus de Shuvon ?



**Départ**



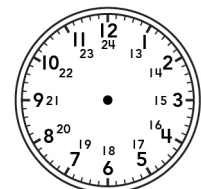
**Arrivée**

Le trajet en autobus de Shuvon dure  minutes.

b) Le cours de natation de Lucas débute à 9 h 15. Il dure 1 h 15. À quelle heure se termine le cours de natation de Lucas ?



**Début**



**Fin**

Le cours de natation de Lucas se termine à .