



Nom \_\_\_\_\_



# Le chat de Justine

Justine a un nouveau chat.  
Voici les informations données par sa mère.



- Il a besoin d'un bac à litière pour faire ses besoins.
- Il faut aussi acheter des sacs de litière et une petite pelle pour nettoyer le bac chaque semaine.
- Il mange deux conserves de nourriture pour chat chaque jour.
- Il faut acheter de petites balles pour amuser le chat.
- Une brosse est utile pour garder son poil lisse.

La mère de Justine demande à Justine de faire la liste des achats pour le chat. Justine doit prévoir assez de nourriture pour une semaine. Le montant des achats ne doit pas dépasser 40 \$.

Aide Justine à remplir le tableau suivant en utilisant la circulaire.

Bac à litière **20\$**

Pelle à litière **2\$**

Sac de litière **3\$**


Conserves 2 POUR 1 **1\$**

Brosse **2\$**

Balles **1\$ CHACUNE**

Liste des achats		
Nom de l'article	Quantité	Prix total
Cout total		


geniepublication.com



Nom \_\_\_\_\_

# Le chat de Justine

Justine a un nouveau chat.  
Voici les informations données par sa mère.



- Il a besoin d'un bac à litière pour faire ses besoins.
- Il faut aussi acheter des sacs de litière et une petite pelle pour nettoyer le bac chaque semaine.
- Il mange deux conserves de nourriture pour chat chaque jour.
- Il faut acheter de petites balles pour amuser le chat.
- Une brosse est utile pour garder son poil lisse.

La mère de Justine demande à Justine de faire la liste des achats pour le chat. Justine doit prévoir assez de nourriture pour une semaine. Le montant des achats ne doit pas dépasser 40 \$.

Aide Justine à remplir le tableau suivant en utilisant la circulaire.

Liste des achats		
Nom de l'article	Quantité	Prix total
Bac à litière	1	20 \$
Sac de litière	1	3 \$
Pelle à litière	1	2 \$
Conserves	$2 + 2 + 2 + 2 + 2 + 2 + 2 = 14$	7 \$
Balles	2	2 \$
Brosse	1	2 \$
Cout total		36 \$