



La fraction et le nombre décimal

1 Associe chaque fraction à sa représentation.


a) $\frac{5}{10}$ •



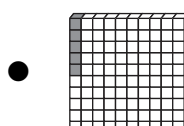
b) $\frac{5}{100}$ •



c) $\frac{1}{100}$ •



d) $\frac{1}{10}$ •



2 Dans chaque cas, représente le nombre décimal et écris la fraction correspondante.

	Nombre décimal	Représentation	Fraction
a)	0,45		
b)	1,75		
c)	0,62		
d)	0,1		
e)	0,01		