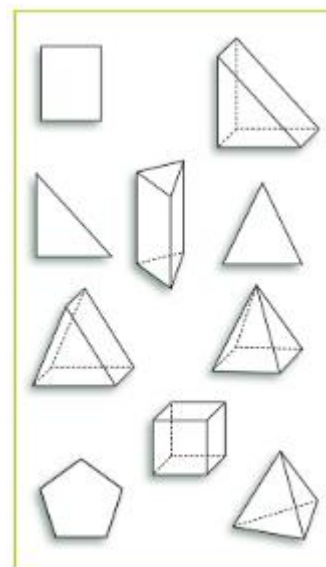



Annexe- Exercices supplémentaires

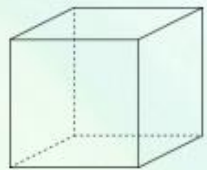

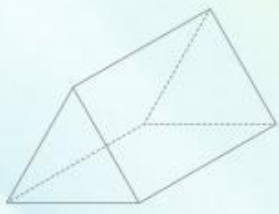
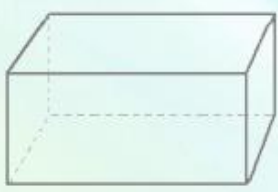
1. Complète l'exercice suivant.

a) Entoure les pyramides

b) Colorie les prismes

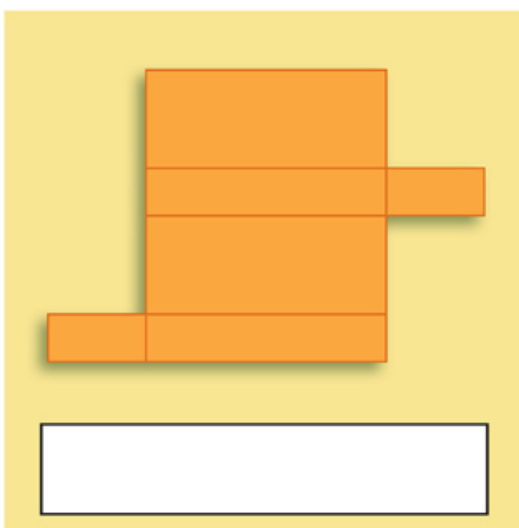


c) Complète les cartes suivantes

<p>Trouve le nombre de sommets.</p>  <p>..... _____ _____</p> <p>1</p> <p>Jardin de Vicky</p>	<p>Trouve le nombre de faces.</p>  <p>..... _____ _____</p> <p>2</p> <p>Jardin de Vicky</p>
<p>Trouve le nombre d'arêtes.</p>  <p>..... _____ _____</p> <p>3</p> <p>Jardin de Vicky</p>	<p>Trouve le nombre de sommets.</p>  <p>..... _____ _____</p> <p>4</p> <p>Jardin de Vicky</p>

2. Nomme le solide correspondant au développement

a)



b)

